



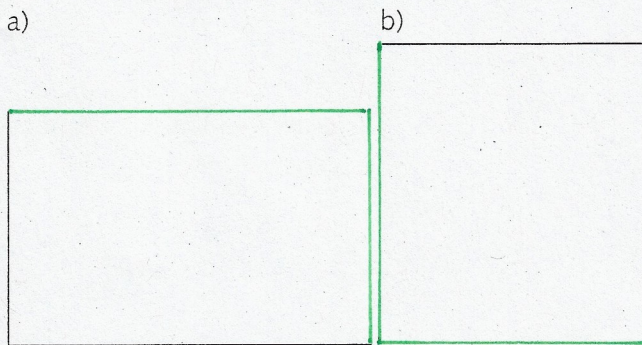


1. Ist die Aussage wahr oder falsch? Kreuze an.



	wahr	falsch
Jedes Rechteck hat vier gleich lange Seiten.		X
In jedem Rechteck sind die gegenüberliegenden Seiten parallel.	X	
Jedes Quadrat hat vier Eckpunkte.	X	
Jedes Quadrat hat vier gleich lange Seiten.	X	
In jeder Ecke eines Quadrats sind die Seiten parallel zueinander.		X
In jeder Ecke eines Rechtecks stehen die Seiten senkrecht zueinander.	X	
Jedes Rechteck ist auch ein Quadrat.		X

2. Miss die Seitenlängen und ergänze mit dem Geodreieck zu einem Rechteck.



3. Zeichne die Punkte A, B und C in das Quadratgitter ein. Ergänze zu einem Rechteck. Notiere die Koordinaten von Punkt D.

a) A (2|3), B (8|2), C (9|8), D ( 3 | 9 )

b) A (4|10), B (1|6), C (9|0), D ( 12 | 4 )

