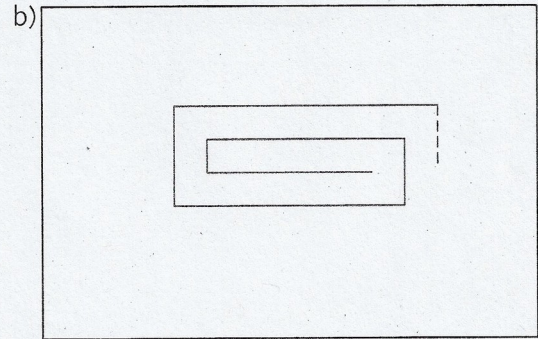
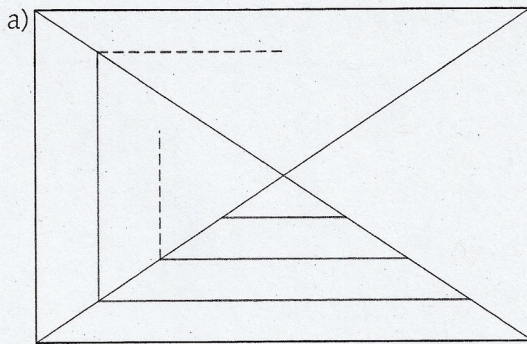


Lösung

1. Parallel und senkrecht. Zeichne die Muster weiter.



2. Wie weit sind die Kugeln vom roten Rand entfernt? Zeichne den Abstand ein und miss die Länge.

a)



b)



c)



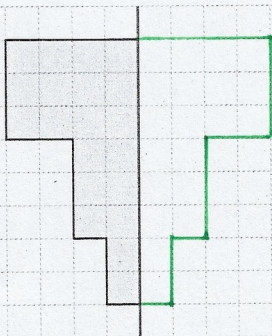
gelb: 3,5cm blau: 1,5cm

gelb: 2,5cm blau: 1cm

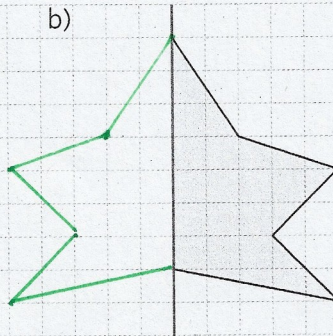
gelb: 2cm blau: 3cm

3. Ergänze zu einer achsensymmetrischen Figur.

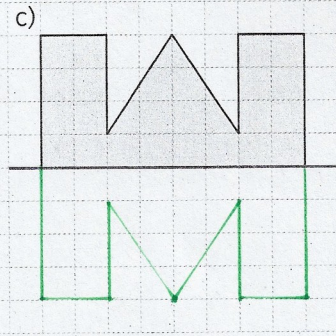
a)



b)



c)



4. Ist die Aussage wahr oder falsch? Kreuze an.

	wahr	falsch
Jedes Rechteck hat vier gleich lange Seiten.		<input checked="" type="checkbox"/>
In jedem Rechteck stehen gegenüberliegende Seiten senkrecht zueinander.		<input checked="" type="checkbox"/>
Jedes Quadrat ist auch ein Rechteck.	<input checked="" type="checkbox"/>	
Geraden, die senkrecht zueinander sind, haben überall den gleichen Abstand.		<input checked="" type="checkbox"/>
Parallele Geraden haben überall denselben Abstand voneinander.	<input checked="" type="checkbox"/>	
Jedes Quadrat hat vier rechte Winkel.	<input checked="" type="checkbox"/>	